

TRABAJO PRÁCTICO 10 PARA HACER EN CASA

ESCUELA 109 CENTENARIO



Seño: Claudia Bernal Podés ver el video en YouTube: <https://www.youtube.com/watch?v=1i5VrDxo0PU&t=32s>

(Mandar fotos de las tareas al WhatsApp o e-mail: profeclaudia100@hotmail.com)

Grados: 5°A Y 5°D Turno: Tarde

Explicación del video TP N°10

¡Hola familias!

Esta semana vamos a trabajar con la tabla del 7 y vamos a seguir calculando el perímetro de polígonos regulares. En ciencias naturales vamos a trabajar con un video de "La Pantera Rosa" para terminar con el tema de ¿Qué es la materia? Invito a aquellos/as que aún no han enviado sus trabajos, anímense a sacar fotos y mandármelas.

Si tienen alguna duda pueden consultar por mail o WhatsApp, incluso si se animan puede enviar un video corto de las experiencias. Agradezco a las familias por el acompañamiento en los trabajos de los chicos y las chicas.






¿Estás cansado de contar hasta 7 para ver si podés memorizar la tabla del 7 y así poder sacar las cuentas que te manda tu seño?!

¿Preferirías salir a jugar un rato, pero no te dejan hasta que puedas memorizarla?!

¡No sufras más y presta atención a este método para aprenderla!

- 1- Dibuja un hashtag en la hoja como vemos en la imagen 1.
- 2- Enumera del 1 al 9 en el sentido que indica la flecha celeste.





Para practicar la tabla del 7:

3- Ahora enumera del 0 al 9 en el sentido que indica la flecha roja en la imagen 3.

4- Escribes 0 - 1 - 2 y sigues abajo, pero debes repetir el 2 y seguir 2 - 3 - 4. Como debes volver a bajar repites el 4 y sigues 4 - 5 - 6 y ¡VOILA! ¡Tienes la tabla del 7 completa!

$7 \times 1 = 7$

$7 \times 4 = 28$

$7 \times 7 = 49$

$¡Y 7 \times 10 = 70!$

$7 \times 2 = 14$

$7 \times 5 = 35$

$7 \times 8 = 56$

$¡¡¡¡Que todxs sabemos!!!!$

$7 \times 3 = 21$

$7 \times 6 = 42$

$7 \times 9 = 63$

Resolver y descubrir el mensaje



35

42

61

701

89

$\times 7$

$\times 7$

$\times 7$

$\times 7$

$\times 7$

.....

.....

.....

.....

.....

623= O

642= M

4865= N

427= S

330= A

4907= T

285= U

245= L

294= I



¿Cómo hiciste para memorizar las tablas de multiplicar?

¿Usaste algún truco?

Enviar un audio o un video con la explicación, sino escribirlo en la carpeta.



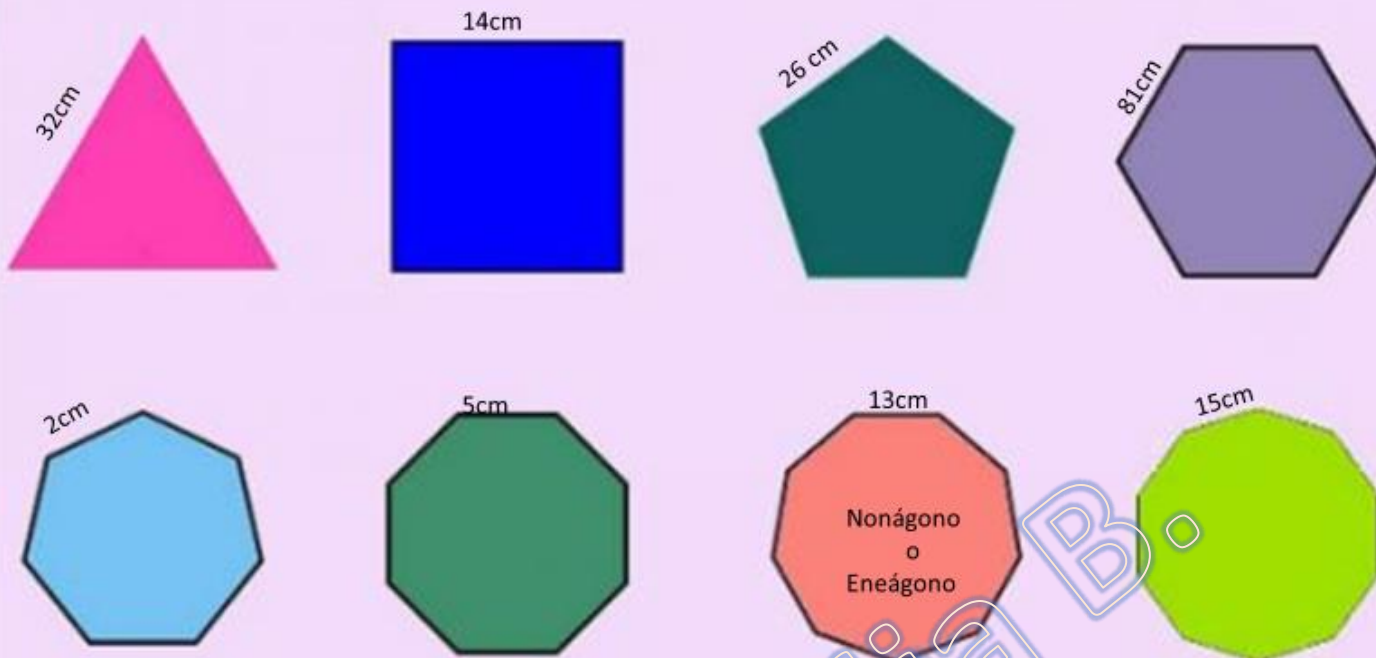


En la carpeta nombrar las siguientes figuras y calcular el perímetro de cada una.



La figura de 9 lados iguales no la habíamos visto antes, por eso les dejo escrito su nombre.

POLÍGONOS REGULARES



Ciencias naturales La materia



Para dar un cierre a este tema vamos a ver imágenes de unos videos del Show de la Pantera Rosa. Aparecerán imágenes y preguntas para que copien y respondan en la carpeta. Para disfrutarlo les recomiendo que vean el video:

<https://www.youtube.com/watch?v=1i5VrDxo0PU&t=32s>

**LA PANTERA ROSA
PRESENTA**



**LA MATERIA:
PROPIEDADES ESPECÍFICAS**

**¿QUÉ PROPIEDADES
DE LA MATERIA PODES OBSERVAR?**



ANOTA EN TU CARPETA LA OPCIÓN CORRECTA

1

-Fragilidad

-Dureza

-Elasticidad



ANOTA EN TU CARPETA LA OPCIÓN CORRECTA

2

-Fragilidad

-Dureza

-Elasticidad



ANOTA EN TU CARPETA LA OPCIÓN CORRECTA

3

-Fragilidad

-Dureza

-Elasticidad



ANOTA EN TU CARPETA LA OPCIÓN CORRECTA

4

-Fragilidad

-Conductividad


-Elasticidad



ANOTA EN TU CARPETA LA OPCIÓN CORRECTA

5

- Densidad
- Conductividad
- Atracción magnética



ANOTA EN TU CARPETA LA OPCIÓN CORRECTA

¿La materia tiene memoria?

- Si
- No



Seguiremos después del receso invernal

No se olviden de enviar las actividades realizadas

Con cariño

Seño Claudia